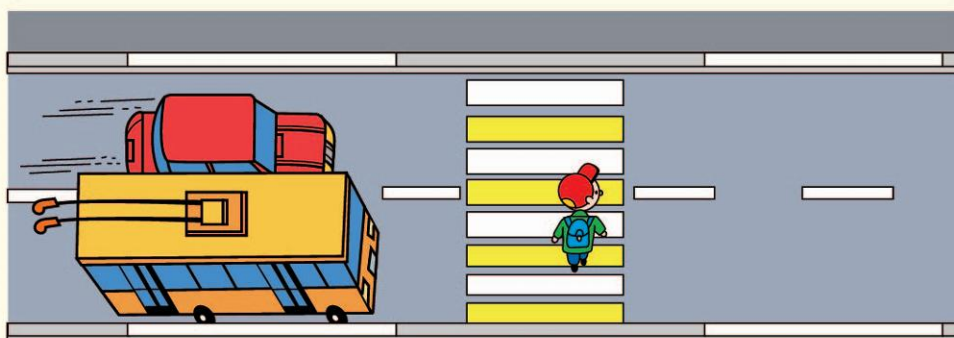


ТЕСТ - 2 ВАРИАНТ БИЛЕТ

Выбери один из вариантов ответов

1

Как называют изображение полосок на переходе для пешеходов




- 1) зебра 2) лестница

2

На какой картинке зверята правильно себя ведут?

1)

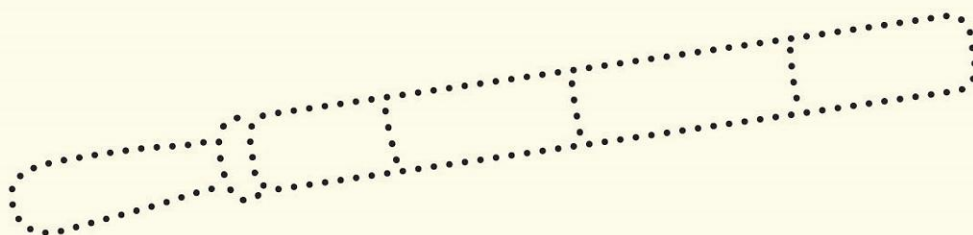


2)



3

Соедини точки, что получилось?



4

Соедини точки и назови общественный транспорт.

